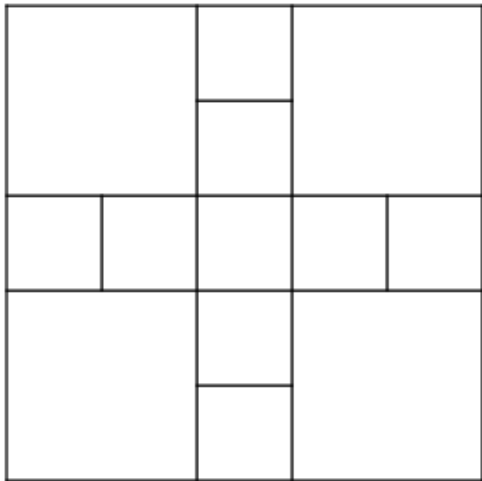


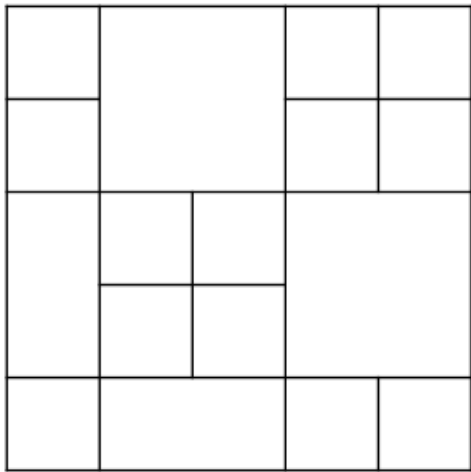
1. Zadatak – skriveni kvadrati
Pažljivo pogledaj slike. Koliko kvadrata uočavaš na njima?

a)



Broj kvadrata: _____

b)



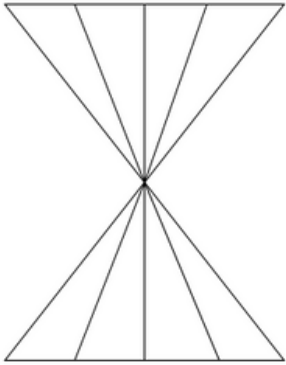
Broj kvadrata: _____

- c) Koliko si kvadrata uočio na slikama? Zbroji kvadrate pod a) i b) i na crtu napiši rezultat.

2. Zadatak – skriveni trokuti

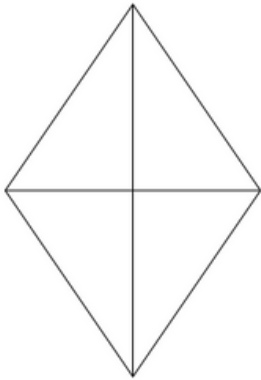
Pažljivo pogledaj slike. Koliko trokuta uočavaš na njima?

a)



Broj trokuta: _____

b)



Broj trokuta: _____

c) Koliko si trokuta uočio na slikama? Zbroji trokute pod a) i b) i na crtu napiši rezultat.

3. Koji broj dobiješ ako zbrojiš sve trokute i kvadrate koje si uočio na slikama u prethodnim zadacima i dodaš im 33?
